


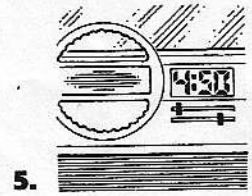
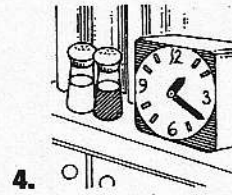


GRAMÁTICA: TELLING TIME
ACTIVIDAD
16
¿Qué hora es?

Escoge la hora mencionada. Marca con un círculo tu respuesta. (*Hint: Circle the correct time.*)

1. Son las ocho menos diez.
 a. 10:08 b. 7:50 c. 8:10
2. Es la una y cuarto.
 a. 1:40 b. 1:04 c. 1:15
3. Son las cinco y media.
 a. 5:00 b. 5:15 c. 5:30
4. Son las cuatro menos cuarto.
 a. 4:15 b. 3:45 c. 4:45
5. Es la una menos veinte.
 a. 12:40 b. 1:20 c. 1:30

ACTIVIDAD
11
¿Qué hora es?

Explica qué hora es según cada reloj.



5. _____

ACTIVIDAD
18
La hora

Escribe la hora con palabras. (*Hint: Write the time in words.*)

1. 7:25 _____
2. 9:15 _____
3. 10:55 _____